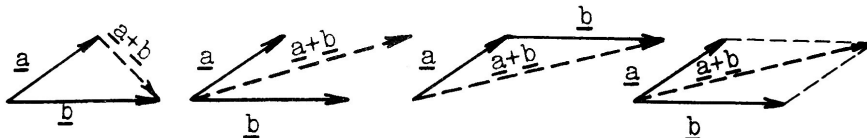


Gyakorló feladatsor a vektorok összeadására és kivonására

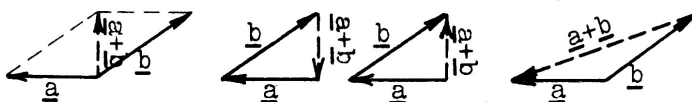
Az $\underline{a} + \underline{b}$ vektort akartuk megszerkeszteni.

A következő rajzok közt hibásak is vannak. Jelöld meg azokat a rajzokat, amelyek valóban az $\underline{a} + \underline{b}$ vektort adják meg!

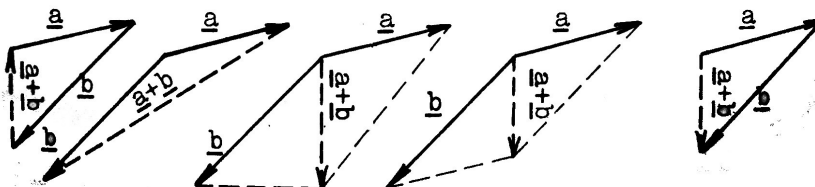
a/



b/



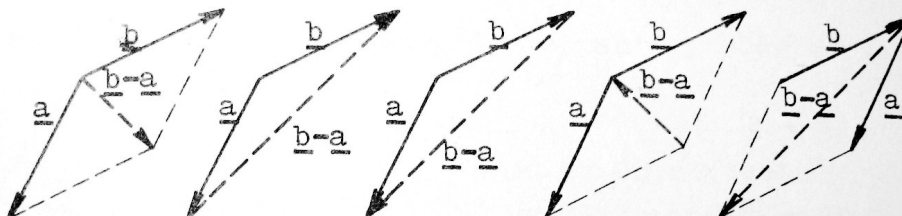
c/



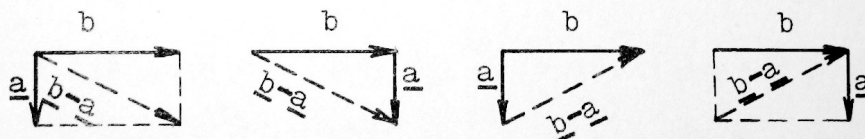
A $\underline{b} - \underline{a}$ vektort akartuk megszerkeszteni.

A következő rajzok közt hibásak is vannak. Jelöld meg azokat a rajzokat, amelyek valóban a $\underline{b} - \underline{a}$ vektort adják meg!


a/



b/



c/



d/

